

RECORD DE SAUT EN LONGUEUR À MOTO (Polynésie 09/2009)

La phase d'accélération du motard.

1. échelle 1 cm (document) \Leftrightarrow 2 m (réel)

$G_1G_3 = 6,4$ cm sur le document donc G_1G_3 (réel) = $6,4 \times 2 / 1 = 12,8$ m

$$v_2 = \frac{G_1G_3}{2\tau}$$

$$v_2 = \frac{12,8}{2 \times 0,800} = 8,0 \text{ m.s}^{-1}$$

$$v_4 = \frac{G_3G_5}{2\tau}$$

$$v_4 = \frac{25,6}{2 \times 0,800} = 16 \text{ m.s}^{-1}$$

$G_3G_5 = 12,8$ cm sur le document donc G_3G_5 (réel) = $12,8 \times 2 / 1 = 25,6$ m

2. Échelle des vitesses : 1 cm \Leftrightarrow 2 m.s⁻¹ donc les longueurs des vecteurs vitesses sont :

$$L(\vec{V}_2) = 8,0 \times 1/2 = 4,0 \text{ cm}$$

$$L(\vec{V}_4) = 16,0 \times 1/2 = 8,0 \text{ cm}$$

Rappel : Les vecteurs vitesses sont tangents à la trajectoire et orientés dans le sens du mouvement.

$$3. \Delta\vec{V}_3 = \vec{V}_4 - \vec{V}_2$$

Le vecteur variation de vitesse démarre du point G_3 .

4. Vecteur accélération \vec{a}_3 au point G_3 :

$$\vec{a}_3 = \frac{d\vec{V}_3}{dt} \approx \frac{\Delta\vec{V}_3}{\Delta t} = \frac{\vec{V}_4 - \vec{V}_2}{2\tau}$$

$$a_3 = \frac{\Delta V_3}{2\tau}$$

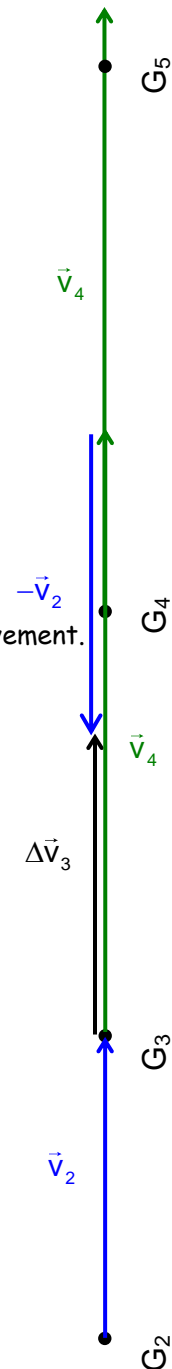
$$L(\Delta\vec{V}_3) = 4,0 \text{ cm}$$

$$1 \text{ cm} \Leftrightarrow 2 \text{ m.s}^{-1} ;$$

$$L(\Delta\vec{V}_3) = 4,0 \text{ cm}$$

$$\Delta V_3 = 4,0 \times \frac{2}{1} = 8,0 \text{ m.s}^{-1}$$

$$a_3 = \frac{\Delta V_3}{2\tau} = \frac{8,0}{2 \times 0,800} = 5,0 \text{ m.s}^{-2}$$



5.1. la vitesse est proportionnelle au temps car Le graphe de la figure 2 est une droite qui passe par l'origine,

$v = k.t$ avec k pente de la courbe

L'accélération a est défini par :

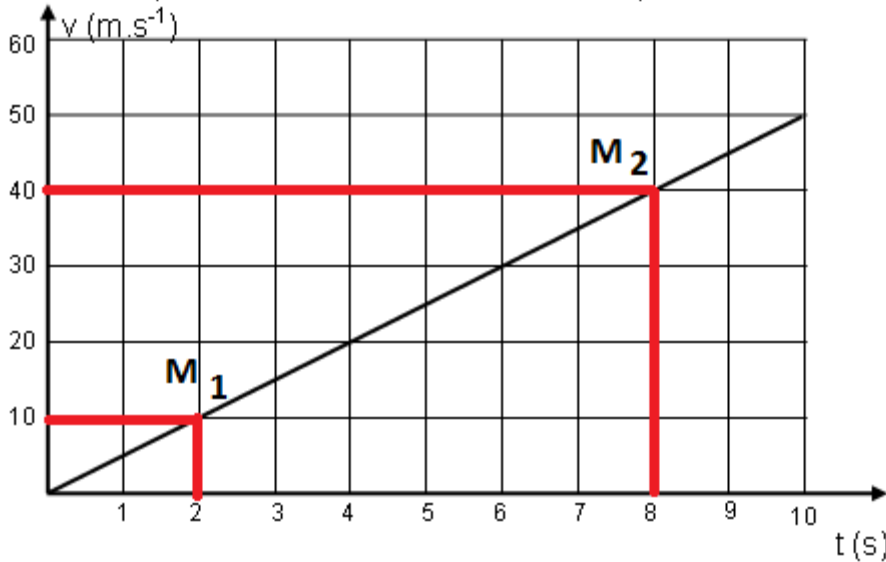
$$a = dV/dt ;$$

$$a = d(k.t)/dt = k$$

L'accélération de la moto est constante.

- G_1
- G_0

Figure 2 : Valeur v de la vitesse du système en fonction du temps.



5.2. Pour déterminer l'accélération il faut calculer la

pende de la courbe $v = f(t)$. On prend 2 points de la droite :
entre les points

M_1 ($t_1 = 2 \text{ s}$; $V_1 = 10 \text{ m.s}^{-1}$)
 M_2 ($t_2 = 8 \text{ s}$; $V_2 = 40 \text{ m.s}^{-1}$)

$$a = \frac{V_2 - V_1}{t_2 - t_1}$$

$$a = \frac{40 - 10}{8 - 2} = 5,0 \text{ m.s}^{-2}$$

On retrouve bien la valeur obtenue graphiquement en 4.

5.3. $v = 160 \text{ km/h} = 160 \times 1000 / 3600$

$$v = 44,4 \text{ m.s}^{-1}$$

$$v = a.t$$

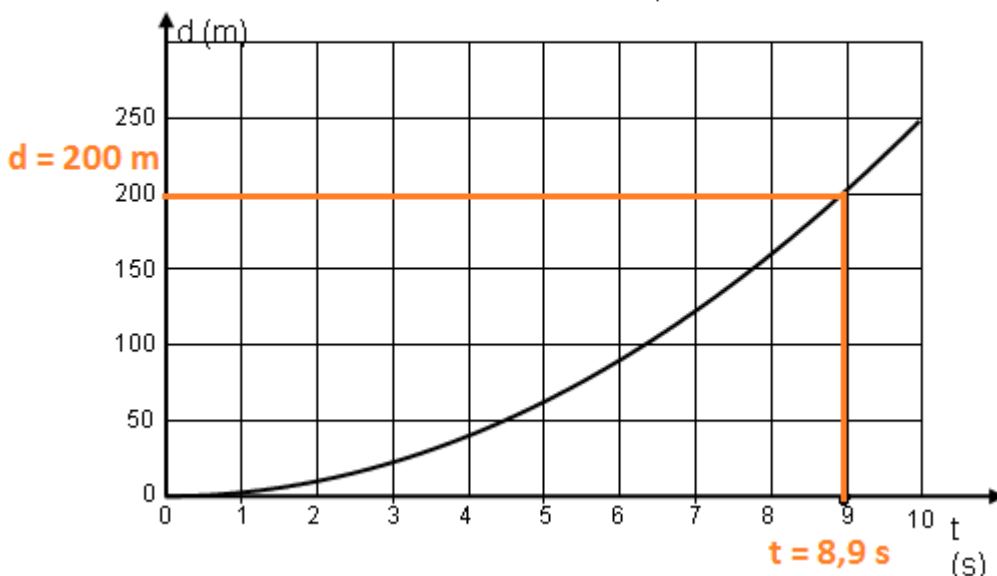
$$t = v/a = 44,4/5,0$$

$$t = 8,9 \text{ s}$$

A $t = 8,9 \text{ s}$ la moto atteint la vitesse de $44,4 \text{ m.s}^{-1}$

Graphiquement avec $d = f(t)$ on trouve la distance parcourue par la moto quand elle atteint la vitesse $v = 160 \text{ km/h}$
 $d = 200 \text{ m}$

Figure 3 : Distance d parcourue par le système en fonction du temps



6.1 vidéo

Lorsqu'un système matériel A exerce une force sur un système matériel B, alors celui-ci exerce sur le système matériel A une force opposée :

$$\vec{F}_{A/B} = -\vec{F}_{B/A}$$

Les droites d'actions des 2 forces sont confondues.

6.2 D'après le principe d'interaction la force exercée par la moto sur la route est opposée à la force exercée par la route sur la moto :

$$\vec{F} = -\vec{F}'$$

6.3 c) Pour faire l'étude mécanique du système, il faut toujours définir dans l'ordre:

1) Le système: (moto, motard)

2) Le référentiel : la terre supposée référentiel galiléen, dans lequel on pourra appliquer la seconde loi de Newton.

3) Le repère lié au référentiel :

$$R(0, \vec{i}, \vec{j})$$

4) Somme des forces extérieures au système :

$$\Sigma \vec{F}_{\text{ext}} = \vec{P} + \vec{R}_N + \vec{F} = \vec{F}$$

Les vecteurs poids et réaction normale au poids sont opposés.

Seconde loi de Newton

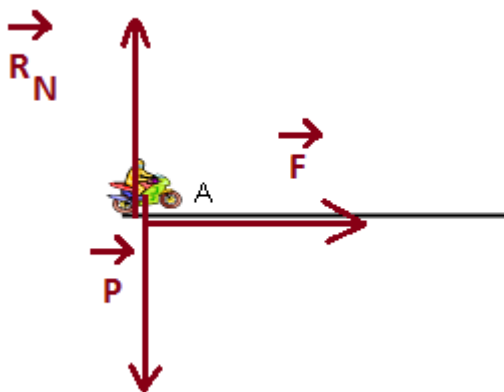
Dans un référentiel galiléen, la somme vectorielle des forces extérieures appliquée à un système matériel est

égale à la dérivée par rapport au temps de sa quantité de mouvement: $\Sigma \vec{F}_{\text{ext}} = \frac{d\vec{p}}{dt} = \frac{d(m \cdot \vec{v})}{dt}$

Dans ce cas particulier où le système conserve une masse constante, la seconde loi devient:

$$\Sigma \vec{F}_{\text{ext}} = \frac{d\vec{p}}{dt} = \frac{d(m \cdot \vec{v})}{dt} = m \cdot \frac{d(\vec{v})}{dt} = m \cdot \vec{a} = \vec{F}$$

6.4 Tracé des vecteurs forces :



6.5

$$\vec{F} = m \cdot \vec{a}$$

$$F = 180 \times 5 = 9,0 \times 10^2 \text{ N}$$